

2018年第十一届中小學生“漢語橋”語言文化知識複習題

(高中部)





1. 2018年是中加-----。

- (A) 旅遊年 (B) 建交35周年 (C) 教育交流年 (D) 留學年

2. 位於北京天安門廣場中心的建築物是-----。

- (A) 人民英雄紀念碑 (B) 解放碑 (C) 中華門 (D) 鼓樓

3. 以下商標中不屬於中國的品牌是：

- (A)  (B) 
- (C)  (D) 

4. 中國現任國家主席是-----。

- (A) 習近平 (B) 李克強 (C) 胡錦濤 (D) 溫家寶

5. 中國的農曆既能表示-----的圓缺變化，又能表示季節的寒暑變化。

- (A) 月亮 (B) 太陽 (C) 地球 (D) 星星

6. 在以下中國古代園林中-----位於北京市。



(A) 北海公園



(B) 避暑山莊



(C) 個園



(D) 留園

7. 哈爾濱位於東北平原北部，是-----省的省會。

(A) 黑龙江 (B) 辽宁 (C) 河北 (D) 山西

8. 2022年的冬季奥林匹克运动会将在-----举行，这个城市将成为世界上唯一一个既举办夏季奥运会又举办冬季奥运会的城市。

(A) 北京 (B) 温哥华 (C) 卡尔加里 (D) 伦敦

9. 下面这个图片上的事物叫什么？



(A) 风筝 (B) 灯笼 (C) 对联 (D) 剪纸

10. 登高、赏菊是-----的习俗。

(A) 重阳节 (B) 春节 (C) 元宵节 (D) 中秋节

11. 属相也叫“-----”。

(A) 生肖 (B) 地支 (C) 天干 (D) 节气

12. 篆刻出来的艺术品叫-----。

(A) 印章 (B) 印泥 (C) 瓷器 (D) 陶器

13. 中国历史上的“贞观之治”指的是以下哪个朝代的社会局面？

(A) 唐朝 (B) 汉朝 (C) 明朝 (D) 宋朝

14. 下面这个图片上的事物叫什么？



(A) 砚台 (B) 麻将 (C) 象棋 (D) 算盘

15. 中国古代著名的“-----之路”就是通过河西走廊，进入塔里木盆地，再通过西亚到达欧洲的。

(A) 丝绸 (B) 茶叶 (C) 青铜 (D) 瓷器

16. “曹操”是小说-----中的人物。

(A) 《三国演义》 (B) 《水浒传》 (C) 《儒林外史》 (D) 《水浒传》

17. 以下诗句节选自《面朝大海，春暖花开》，它的作者是-----。

从明天起，做一个幸福的人

喂马，劈柴，周游世界

从明天起，关心粮食和蔬菜

我有一所房子，面朝大海，春暖花开

(A) 海子 (B) 戴望舒 (C) 徐志摩 (D) 刘半农

18. “水煮鱼”是-----。

(A) 四川名菜 (B) 安徽名菜 (C) 湖南名菜 (D) 浙江名菜

19. 在中国人口最多的民族是-----。

(A) 汉族 (B) 藏族 (C) 回族 (D) 维吾尔族

20. 中国著名的兵马俑在-----。

(A) 西安 (B) 天津 (C) 上海 (D) 南京

21. 学汉语-----很难，-----很有意思。

(A) 虽然.....，但是..... (B) 如果.....，就.....

(C) 先.....，然后..... (D) 因为.....，所以.....

22. 相声讲究说，学，-----，唱。

(A) 逗 (B) 画 (C) 演 (D) 跳

23. 中国的姓氏有多种来源，其中复姓“令狐”可能起源于-----。



- (A) 封地 (B) 官职 (C) 图腾崇拜物 (D) 神话传说

24. 用-----计算的方法叫珠算。

- (A) 算盘 (B) 计算机 (C) 计数器 (D) 口头

25. 在哈尔滨每年都要举行盛大的国际-----节。

- (A) 冰雪 (B) 滑雪 (C) 冰球 (D) 冰灯

26. 在中国传统婚礼上，-----是新娘礼服头饰上的装饰。

- (A) 凤 (B) 龙 (C) 龟 (D) 蛇

27. 中医使用望、闻、问、切四种方法诊断病情，其中“望”指的是-----。

- (A) 看气色 (B) 闻味道 (C) 听声息 (D) 问病情

28. 下面这个图片反映的是什么节日？



- (A) 元宵节 (B) 中秋节 (C) 端午节 (D) 重阳节

29. 夏至是一年中-----的一天。

- (A) 白天最长、黑夜最短 (B) 白天最短、黑夜最长 (C) 最热 (D) 最冷

30. 根据造字法，“月”是-----字。

(A) 象形 (B) 会意 (C) 形声 (D) 指事

31. 著名的“黄果树瀑布”在-----。

(A) 贵州省 (B) 四川省 (C) 辽宁省 (D) 河北省

32. 端午节传说是为了纪念中国古代伟大的爱国诗人-----。

(A) 屈原 (B) 杜甫 (C) 王维 (D) 文天祥

33. 下列食物中不属于中国传统食物的是-----。

(A) 寿司 (B) 饺子 (C) 豆腐 (D) 咕鲁肉

34. 维吾尔族主要居住在中国的-----。

(A) 新疆维吾尔自治区 (B) 内蒙古自治区
(C) 广西壮族自治区 (D) 西藏自治区

35. “茶馆”是-----的代表作。

(A) 老舍 (B) 鲁迅 (C) 矛盾 (D) 丁玲

36. “言必信，行必果”表现中华民族-----的品质。

(A) 守信 (B) 孝顺 (C) 公平 (D) 好学

37. 汉字书写艺术叫-----。

(A) 书法 (B) 篆刻 (C) 刺绣 (D) 雕刻

38. 汉语中“不惑之年”指的是 ____ 岁。

(A) 40 (B) 50 (C) 70 (D) 20

39. “好”在词语“爱好”中读作-----。

(A) hào (B) hǎo (C) háo (D) hāo

40. 唐诗《望月怀远》中“海上生明月”的后面一句是-----。

(A) 天涯共此时 (B) 夜静春山空 (C) 明月来相照 (D) 处处闻啼鸟

41. 下列哪个社交媒体是由中国公司运营的？

(A) Wechat (B) Twitter (C) Facebook (D) LinkedIn

42. 酥油茶是 ----- 的一种饮料。此种饮料用酥油和浓茶加工而成。



(A) 藏族 (B) 维吾尔族 (C) 纳西族 (D) 回族

43. 大熊猫的主要食物是-----。

(A) 竹子 (B) 昆虫 (C) 香蕉 (D) 肉

44. ----- 是中国大陆的火警电话号码。

(A) 119 (B) 120 (C) 114 (D) 110

45. 中国人在-----的时候使用这个标志。



(A) 生日 (B) 新年 (C) 结婚 (D) 中秋

46. 京剧的-----扮演的是女性人物。

(A) 旦 (B) 丑 (C) 净 (D) 生

47. 下面的动物中，-----不属于十二生肖。

(A) 狮子 (B) 龙 (C) 老鼠 (D) 猴子

48. 中国古代伟大的思想家和教育家-----被联合国教科文组织列为世界十大文化名人之一。

(A) 孔子 (B) 老子 (C) 韩非子 (D) 庄子

49. 中国目前实行-----制义务教育。

(A) 九年 (B) 六年 (C) 十二年 (D) 十年

50. 这位加拿大人的中文名字是-----。

(A) 白求恩 (B) 皮尔森 (C) 拜德恩 (D) 诺德



答案：A